

به نام خداوند پروانه های قشنگ

دبستان دخترانه امام حسین (ع) شماره یک

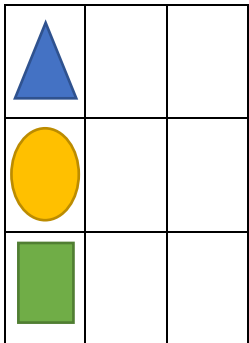
ارزشیابی ریاضی دی ماه پایه اول

نام و نام خانوادگی.....



1- عزیزم دور سومین بوجه از سمت راست را یک خط بسته بکش.

2- نازنینم شکل ها را بشمار و به تعداد آنها در جدول چوب خط بکش و عدد بنویس.



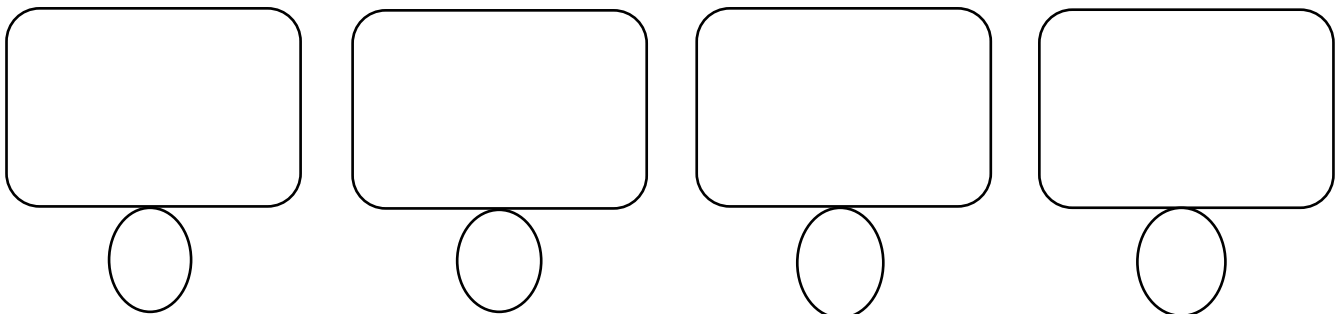
3- دخترم جدول چوبل را کامل کن.

کودک	یاس		اُردک
	پروانه		کودک
پروانه		کودک	یاس
	کودک	یاس	

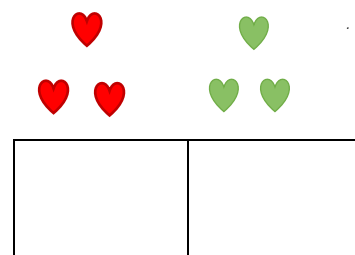
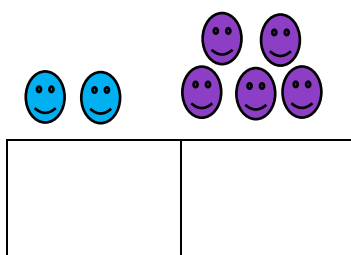

4- دختر باهوشم کدام یک از شکل های زیر الگوی مشخصی دارد؟ (رنگ بزن)



5- مهربانم برای شکل ها عدد بنویس و برای عدد ها شکل بکش.



6- شکل های سمت راست و چپ روی هم چند تاست؟ (چوب خط بکش و عدد بنویس)



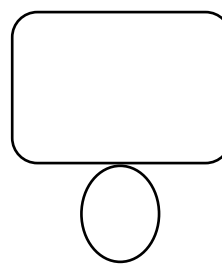
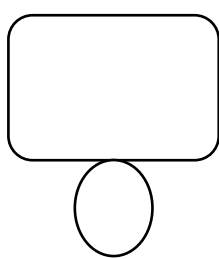
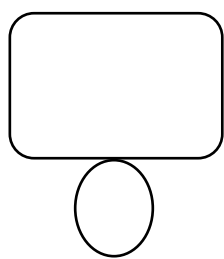


7- عدد قبل و بعد اعداد نوشته شده را بنویس.

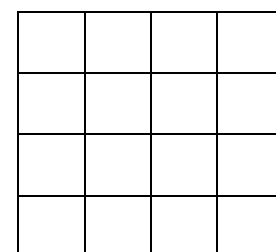
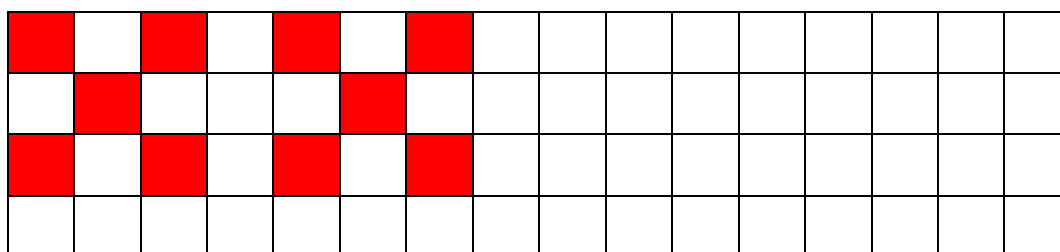
	8	
--	---	--

	3	
--	---	--

8- دفتر نویم عدد هر شکل را بنویس و برای آن علامت $<=>$ قرار بده.



9- عزیزم الگو را ادامه بده و الگوی مشخص شده را بکش.



10- دفتر نازنینم جدول را کامل کن.

4		5	2	6	7	9	8	3
2	9	6	5		3	7	4	1
7	3			9	4		5	6
1	2			4	6	5	3	7
5	8	3	7	2	9		6	4
6	7	4	3	1			9	2
	5	7		3		6	2	9
3	6	1		5			7	8
9	4	2	6			3	1	

